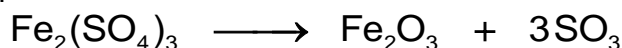


**ΕΠΑΝΑΛΗΠΤΙΚΕΣ ΠΑΝΕΛΛΑΔΙΚΕΣ ΕΞΕΤΑΣΕΙΣ
ΗΜΕΡΗΣΙΩΝ ΚΑΙ ΕΣΠΕΡΙΝΩΝ ΓΕΝΙΚΩΝ ΛΥΚΕΙΩΝ****ΣΑΒΒΑΤΟ 12 ΣΕΠΤΕΜΒΡΙΟΥ 2020****ΕΞΕΤΑΖΟΜΕΝΟ ΜΑΘΗΜΑ: ΧΗΜΕΙΑ ΠΡΟΣΑΝΑΤΟΛΙΣΜΟΥ****ΣΥΝΟΛΟ ΣΕΛΙΔΩΝ: ΠΕΝΤΕ (5)****ΘΕΜΑ Α**

Για τις προτάσεις **A1** έως και **A4** να γράψετε στο τετράδιό σας τον αριθμό της πρότασης και δίπλα το γράμμα που αντιστοιχεί στη σωστή επιλογή.

A1. Η χημική αντίδραση



χαρακτηρίζεται ως:

- α. διάσπασης και οξειδοαναγωγική.
- β. διάσπασης και μεταθετική.
- γ. αποσύνθεσης και οξειδοαναγωγική.
- δ. αποσύνθεσης και μεταθετική.

Μονάδες 5

A2. Άκυκλος υδρογονάνθρακας με μοριακό τύπο C_4H_8 διαβιβάζεται σε αραιό υδατικό διάλυμα H_2SO_4 . Ως αποτέλεσμα:

- α. παράγονται πάντα δύο οργανικές ενώσεις.
- β. παράγεται πάντα μία οργανική ένωση.
- γ. σε κάθε περίπτωση το διάλυμα μετατρέπεται σταγόνες ενός διαλύματος $\text{K}_2\text{Cr}_2\text{O}_7$ από πράσινο σε πορτοκαλί.
- δ. σε κάθε περίπτωση το διάλυμα αποχρωματίζει σταγόνες διαλύματος KMnO_4 .

Μονάδες 5

A3. Σε υδατικό διάλυμα HNO_3 10^{-7} M στους 25°C με $K_w=10^{-14}$, η $[\text{H}_3\text{O}^+]$ είναι:

- α. 10^{-7} M.
- β. $1,62 \cdot 10^{-7}$ M.
- γ. $2 \cdot 10^{-7}$ M.
- δ. $0,62 \cdot 10^{-7}$ M.

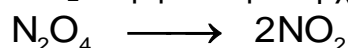
Μονάδες 5

A4. Το μεγαλύτερο μήκος κύματος της ηλεκτρομαγνητικής ακτινοβολίας που εκπέμπεται από ένα υδρογονοάτομο παρατηρείται κατά τη μετάβαση του ηλεκτρονίου μεταξύ των ενεργειακών σταθμών:

- α. $E_7 \rightarrow E_6$.
- β. $E_7 \rightarrow E_1$.
- γ. $E_4 \rightarrow E_3$.
- δ. $E_3 \rightarrow E_4$.

Μονάδες 5

A5. Το N_2O_4 μετατρέπεται σε NO_2 σύμφωνα με τη χημική εξίσωση:



Τη χρονική στιγμή t ο ρυθμός μεταβολής της συγκέντρωσης του N_2O_4 είναι x_1 ,

ενώ ο ρυθμός μεταβολής της συγκέντρωσης του NO_2 είναι x_2 . Ο λόγος $\frac{x_1}{x_2}$

είναι ίσος με:

- α. 2.
- β. -2.
- γ. $\frac{1}{2}$.
- δ. $-\frac{1}{2}$.

Μονάδες 5

ΘΕΜΑ Β

B1. Ένας φούρνος μικροκυμάτων θερμαίνει μια ποσότητα φαγητού ακτινοβολώντας το με μικροκύματα, τα οποία απορροφώνται από το φαγητό και μετατρέπονται ποσοτικά σε θερμότητα $1,5 \cdot 10^5$ J. Έστω ότι το μήκος κύματος της ακτινοβολίας του φούρνου είναι 6,63 mm. Το πλήθος των φωτονίων αυτής της ακτινοβολίας που απαιτήθηκαν κατά την παραπάνω διαδικασία είναι:

- i. $5 \cdot 10^{28}$ ii. $5 \cdot 10^{27}$ iii. $2 \cdot 10^{26}$

α) Να επιλέξετε τη σωστή απάντηση.

Μονάδες 2

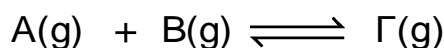
β) Να δικαιολογήσετε την επιλογή σας.

Μονάδες 6

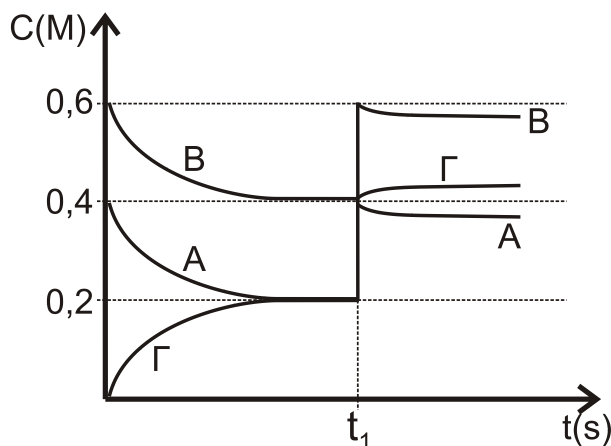
Δίνονται:

- $h = 6,63 \cdot 10^{-34}$ J·s
- $c = 3 \cdot 10^8$ m/s

B2. Σε κενό δοχείο όγκου V εισάγονται τη στιγμή t_0 ποσότητες των A και B, οι οποίες αντιδρούν σύμφωνα με τη χημική εξίσωση



Τα διαγράμματα συγκέντρωσης-χρόνου για όλα τα συστατικά της αντίδρασης δίνονται στο ακόλουθο σχήμα:



Τη στιγμή t_1 η μεταβολή που προκλήθηκε στο δοχείο είναι :

- i. αύξηση του όγκου του.
- ii. μείωση του όγκου του.
- iii. ταυτόχρονη προσθήκη ποσοτήτων και των τριών συστατικών της αντίδρασης.

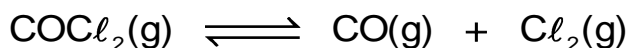
α) Να επιλέξετε τη σωστή απάντηση.

Μονάδες 2

β) Να δικαιολογήσετε την επιλογή σας.

Μονάδες 7

- B3.** Σε κενό δοχείο σταθερού όγκου εισάγεται ποσότητα φωσγενίου, που διασπάται σύμφωνα με τη χημική εξίσωση



με απόδοση $\alpha_1\%$. Σε σταθερή θερμοκρασία εισάγεται επιπλέον ποσότητα φωσγενίου, οπότε η θέση της χημικής ισορροπίας μετατοπίζεται προς τα δεξιά με **συνολική** απόδοση $\alpha_2\%$. Η σχέση που συνδέει τις αποδόσεις $\alpha_1\%$ και $\alpha_2\%$ είναι:

- i. $\alpha_1\% > \alpha_2\%$ ii. $\alpha_1\% = \alpha_2\%$ iii. $\alpha_1\% < \alpha_2\%$

α) Να επιλέξετε τη σωστή απάντηση.


Μονάδες 2

β) Να δικαιολογήσετε την επιλογή σας.

Μονάδες 6

ΘΕΜΑ Γ

- Γ1.** Η παραγωγή πρωτογενούς χαλκού αποτελεί μια από τις πιο σημαντικές βιομηχανικές διεργασίες στον τομέα της μεταλλουργίας. Η μεγαλύτερη ποσότητα χαλκού παράγεται σήμερα με υπαίθρια εξόρυξη μεταλλεύματος που περιέχει μικρά ποσοστά χαλκού υπό μορφή σουλφιδίων του χαλκού. Η κατεργασία αρκετών σταδίων καταλήγει στην παραγωγή Cu_2S (χαλκόλιθος), ο οποίος μετατρέπεται σε πρωτογενή χαλκό μετά από διαβίβαση ρεύματος αέρα, σύμφωνα με την παρακάτω αντίδραση:



190,5 kg παραγόμενου χαλκού αντιδρούν με διάλυμα θειικού λευκοχρύσου(II) προς σχηματισμό διαλύματος θειικού χαλκού(II) και μεταλλικού λευκοχρύσου.

- α) Να γραφεί η χημική εξίσωση της αντίδρασης και να υποδείξετε το οξειδωτικό και αναγωγικό σώμα.

(Μονάδες 3)

Τα προϊόντα διαχωρίζονται και εισάγονται σε δύο δοχεία Α και Β. Στο δοχείο Α εισάγεται όλη η ποσότητα του θειικού χαλκού και στο δοχείο Β εισάγεται μέρος της ποσότητας του λευκοχρύσου. Το δοχείο Α περιέχει διάλυμα NaOH με τρυγικό καλιονάτριο και 69,6 kg άγνωστης ένωσης μοριακού τύπου $\text{C}_v\text{H}_{2v}\text{O}$. Παρατηρείται καταβύθιση 1200 mol καστανέρυθρου ιζήματος.

- β) Να βρείτε το συντακτικό τύπο της άγνωστης ένωσης στο δοχείο Α.

(Μονάδες 6)

Το δοχείο Β περιέχει 80 g υδρογονάνθρακα με έναν πολλαπλό δεσμό και διαβιβάζεται περίσσεια αερίου H_2 . Τελικά απορροφώνται 89,6 L H_2 σε STP.

- γ) Να βρείτε το συντακτικό τύπο του υδρογονάνθρακα.

(Μονάδες 6)

Μονάδες 15

Δίνονται:

- $\text{Ar}(\text{C})=12$, $\text{Ar}(\text{H})=1$, $\text{Ar}(\text{O})=16$, $\text{Ar}(\text{Cu})=63,5$

- Γ2. Ομογενές μίγμα μάζας 72 g, που αποτελείται από δύο ισομερείς ουσίες Α και Β με γενικό μοριακό τύπο $C_nH_{2n+2}O$ χωρίζεται σε δύο ίσα μέρη. Στο πρώτο μέρος προστίθεται μεταλλικό Na και εκλύονται 6720 mL αερίου μετρημένα σε πρότυπες συνθήκες (STP). Στο δεύτερο μέρος προστίθεται διάλυμα $I_2/NaOH$ και καταβυθίζονται 78,8 g ιζήματος.

Να προσδιορίσετε τους συντακτικούς τύπους των ουσιών Α και Β καθώς και τη σύσταση του μίγματος. Όλες οι αντιδράσεις θεωρούνται ποσοτικές-μονόδρομες.

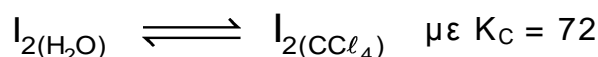
Μονάδες 10

Δίνονται:

- $Ar(C)=12, Ar(H)=1, Ar(I)=127, Ar(O)=16$

ΘΕΜΑ Δ

Το ιώδιο (I_2) αποτελεί μια ουσία με ποικιλία εφαρμογών στην καθημερινότητά μας. Το ιώδιο έχει μικρή διαλυτότητα στο νερό (H_2O), αλλά πολύ μεγάλη διαλυτότητα στον οργανικό διαλύτη τετραχλωράνθρακα (CCl_4). Η αντίδραση κατανομής του ιωδίου μεταξύ των δύο αυτών φάσεων είναι:



- Δ1. Ένας μαθητής του Λυκείου πρόσθεσε 0,2 L CCl_4 σε δοχείο με 0,6 L υδατικού διαλύματος που περιέχει 63,5 mg διαλυμένου ιωδίου. Ο μαθητής ανακίνησε καλά το δοχείο και οι δύο φάσεις που προέκυψαν αφέθηκαν να διαχωριστούν πλήρως. Το H_2O δεν αναμιγνύεται με τον CCl_4 .

Να υπολογίσετε το % ποσοστό του ιωδίου που παρέμεινε στην υδατική φάση.

Μονάδες 10

Δίνονται:

- $Ar(I)=127$

- Δ2. Αναμιγνύονται τα παρακάτω 3 διαλύματα:

- 100 mL διαλύματος NH_3 , 0,5M
- 250 mL διαλύματος CH_3NH_2 , 0,2M
- 500 mL διαλύματος HI, 0,1M

και το διάλυμα που προκύπτει αραιώνεται μέχρι τελικού όγκου 2 L.

- α) Να υπολογίσετε το pH του τελικού διαλύματος.

(Μονάδες 10)

- β) Να υπολογίσετε το % ποσοστό (σε μορφή κλάσματος) της βάσης CH_3NH_2 που αντέδρασε.

(Μονάδες 5)

Μονάδες 15

Δίνονται:

- $K_w = 10^{-14}$,
- $K_{b(NH_3)} = 2 \cdot 10^{-5}$, $K_{b(CH_3NH_2)} = 5 \cdot 10^{-4}$
- Όλα τα διαλύματα βρίσκονται σε θερμοκρασία $\theta = 25^\circ C$
- Τα δεδομένα του θέματος Δ3 επιτρέπουν τις γνωστές προσεγγίσεις.

ΟΔΗΓΙΕΣ ΓΙΑ ΤΟΥΣ ΕΞΕΤΑΖΟΜΕΝΟΥΣ

1. Στο εξώφυλλο του τετραδίου να γράψετε το εξεταζόμενο μάθημα. Στο εσώφυλλο πάνω-πάνω να συμπληρώσετε τα ατομικά σας στοιχεία. Στην αρχή των απαντήσεών σας να γράψετε πάνω-πάνω την ημερομηνία και το εξεταζόμενο μάθημα. **Να μην αντιγράψετε** τα θέματα στο τετράδιο και **να μη γράψετε** πουθενά στις απαντήσεις σας το όνομά σας.
2. Να γράψετε το ονοματεπώνυμό σας στο πάνω μέρος των φωτοαντιγράφων αμέσως μόλις σας παραδοθούν. **Τυχόν σημειώσεις σας πάνω στα θέματα δεν θα βαθμολογηθούν σε καμία περίπτωση.** Κατά την αποχώρησή σας να παραδώσετε μαζί με το τετράδιο και τα φωτοαντίγραφα.
3. Να απαντήσετε **στο τετράδιό σας** σε όλα τα θέματα **μόνο** με μπλε ή **μόνο** με μαύρο στυλό με μελάνι που δεν σβήνει.
4. Κάθε απάντηση επιστημονικά τεκμηριωμένη είναι αποδεκτή.
5. Διάρκεια εξέτασης: τρεις (3) ώρες μετά τη διανομή των φωτοαντιγράφων.
6. Χρόνος δυνατής αποχώρησης: 17:00.

ΣΑΣ ΕΥΧΟΜΑΣΤΕ ΚΑΛΗ ΕΠΙΤΥΧΙΑ**ΤΕΛΟΣ ΜΗΝΥΜΑΤΟΣ**