

ΕΠΑΝΑΛΗΠΤΙΚΕΣ ΑΠΟΛΥΤΗΡΙΕΣ ΕΞΕΤΑΣΕΙΣ
Γ' ΤΑΞΗΣ ΗΜΕΡΗΣΙΟΥ ΓΕΝΙΚΟΥ ΛΥΚΕΙΟΥ
ΔΕΥΤΕΡΑ 2 ΙΟΥΛΙΟΥ 2007
ΕΞΕΤΑΖΟΜΕΝΟ ΜΑΘΗΜΑ: ΧΗΜΕΙΑ
ΘΕΤΙΚΗΣ ΚΑΤΕΥΘΥΝΣΗΣ
ΣΥΝΟΛΟ ΣΕΛΙΔΩΝ: ΠΕΝΤΕ (5)

ΘΕΜΑ 1ο

Για τις ερωτήσεις 1.1 - 1.4 να γράψετε στο τετράδιό σας τον αριθμό της ερώτησης και δίπλα το γράμμα που αντιστοιχεί στη σωστή απάντηση.

1.1. Ποιο από τα παρακάτω ατομικά τροχιακά ενός πολυηλεκτρονιακού ατόμου στη θεμελιώδη κατάσταση έχει τη μεγαλύτερη ενέργεια; (οι αριθμοί στην παρένθεση αντιστοιχούν στους τρεις πρώτους κβαντικούς αριθμούς).

- α. (3, 1, 0)
- β. (3, 2, 0)
- γ. (3, 0, 1)
- δ. (4, 0, 0)

Μονάδες 5

1.2. Στο μόριο του αιθυλενίου ($\text{CH}_2=\text{CH}_2$) ο π δεσμός προκύπτει με επικάλυψη των τροχιακών

- α. sp^2-s
- β. sp^2-p_x
- γ. p_z-p_z
- δ. sp^2-sp^2

Μονάδες 5

1.3. Σε υδατικό διάλυμα ασθενούς οξέος HA προσθέτουμε αέριο HCl, χωρίς να μεταβληθεί ο όγκος και η θερμοκρασία του διαλύματος. Ποιο από τα παρακάτω μεγέθη αυξάνεται;

- α. pH
- β. K_{aHA}
- γ. α_{HA}
- δ. $[\text{H}_3\text{O}^+]$

Μονάδες 5

1.4. Κατά την ογκομέτρηση διαλύματος HCl με πρότυπο διάλυμα NaOH στο ισοδύναμο σημείο το διάλυμα έχει

- α. pH=13
- β. pH= 6
- γ. pH= 7
- δ. pH= 2

Μονάδες 5

1.5. Να χαρακτηρίσετε τις προτάσεις που ακολουθούν, γράφοντας στο τετράδιό σας δίπλα στο γράμμα που αντιστοιχεί σε κάθε πρόταση, τη λέξη **Σωστό**, αν η πρόταση είναι σωστή, ή **Λάθος**, αν η πρόταση είναι λανθασμένη.

- α. Η ηλεκτρονιακή δομή της εξωτερικής στιβάδας όλων των ευγενών αερίων είναι $ns^2 np^6$.
- β. Σύμφωνα με τη θεωρία Brønsted-Lowry, βάση είναι κάθε ουσία που μπορεί να προσλάβει ζεύγος ηλεκτρονίων.
- γ. Το υδατικό διάλυμα που περιέχει HF 0,1M και NaF 0,1M είναι ρυθμιστικό διάλυμα.
- δ. Οι αλδεΐδες οξειδώνονται και με πολύ ήπια οξειδωτικά μέσα.
- ε. Τα υβριδικά τροχιακά έχουν την ίδια ενέργεια, μορφή και προσανατολισμό με τα ατομικά τροχιακά από τα οποία προκύπτουν.

Μονάδες 5

ΘΕΜΑ 2ο

2.1. Δίνονται τα στοιχεία ${}_8\text{O}$, ${}_{11}\text{Na}$, ${}_{12}\text{Mg}$ και ${}_{16}\text{S}$.

- α. Να διατάξετε τα στοιχεία αυτά κατά αυξανόμενη ενέργεια πρώτου ιοντισμού (Μονάδες 2). Να δικαιολογήσετε την απάντησή σας (Μονάδες 2).

Μονάδες 4

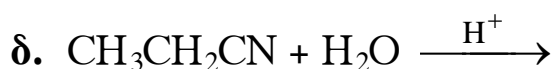
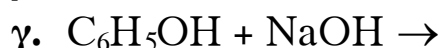
- β. Να γράψετε τους ηλεκτρονιακούς τύπους κατά Lewis των οξειδίων Na_2O , MgO και SO_3 (Μονάδες 6). Να χαρακτηριστεί καθένα από το οξείδια αυτά ως όξινο ή βασικό (Μονάδες 3).

Μονάδες 9

- 2.2. Σε υδατικό διάλυμα μονοπρωτικού οξέος ΗΑ με pH=2 προσθέτουμε μικρή ποσότητα άλατος NaA χωρίς μεταβολή του όγκου του διαλύματος και του pH. Το οξύ ΗΑ είναι ισχυρό ή ασθενές; (Μονάδα 1) Να δικαιολογήσετε την απάντησή σας (Μονάδες 3).

Μονάδες 4

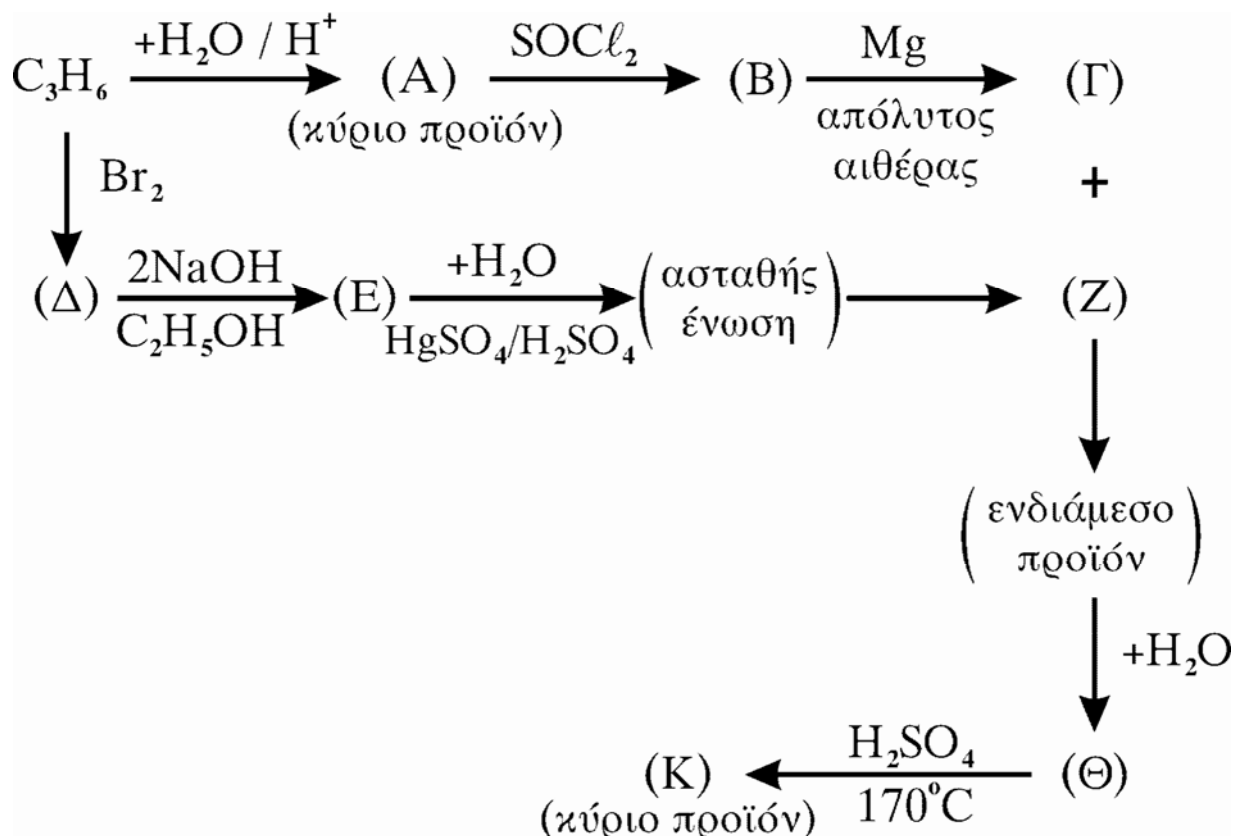
- 2.3. Να μεταφέρετε στο τετράδιό σας σωστά συμπληρωμένες (προϊόντα και συντελεστές) τις παρακάτω χημικές εξισώσεις:



Μονάδες 8

ΘΕΜΑ 3ο

Δίνεται το παρακάτω διάγραμμα χημικών μετατροπών:



- α. Να γράψετε τους συντακτικούς τύπους των οργανικών ενώσεων Α, Β, Γ, Δ, Ε, Ζ, Θ και Κ.

Μονάδες 16

ΑΡΧΗ 4ΗΣ ΣΕΛΙΔΑΣ

β. Να προτείνετε έναν τρόπο διάκρισης των ενώσεων Α και Θ.

Μονάδες 4

γ. 6 g ισομοριακού μείγματος δύο ενώσεων με μοριακό τύπο C_3H_8O αντιδρούν με περίσσεια Na και εκλύονται 1,12 L αερίου (μετρημένα σε STP). Να προσδιοριστούν οι συντακτικοί τύποι των παραπάνω ενώσεων.

Μονάδες 5

ΘΕΜΑ 4ο

Σε δύο διαφορετικά δοχεία περιέχονται τα παρακάτω υδατικά διαλύματα σε θερμοκρασία 25°C:

Δ_1 : HCOONa 0,2M

Δ_2 : HCl 0,1M

α. Να υπολογίσετε το pH των διαλυμάτων Δ_1 και Δ_2 .

Μονάδες 6

β. Σε 100 mL του διαλύματος Δ_1 προστίθενται 400 mL διαλύματος Δ_2 και προκύπτει διάλυμα Δ_3 .

Να υπολογίσετε το βαθμό ιοντισμού του HCOOH στο διάλυμα Δ_3 (Μονάδες 5) και τις συγκεντρώσεις όλων των ιόντων του διαλύματος Δ_3 (Μονάδες 5).

Μονάδες 10

γ. Σε 50 mL του διαλύματος Δ_1 προστίθενται 50 mL διαλύματος Δ_2 και προκύπτει διάλυμα Δ_4 . Το διάλυμα Δ_4 προστίθεται σε 30 mL διαλύματος $KMnO_4$ 0,2M παρουσία H_2SO_4 . Να εξετάσετε αν θα αποχρωματισθεί το διάλυμα του $KMnO_4$.

Δίνονται: $K_{aHCOOH} = 2 \cdot 10^{-4}$,

$K_w = 10^{-14}$ σε θερμοκρασία 25°C.

Για τη λύση του προβλήματος να χρησιμοποιηθούν οι γνωστές προσεγγίσεις.

Μονάδες 9

ΟΔΗΓΙΕΣ (για τους εξεταζόμενους)

1. Στο τετράδιο να γράψετε μόνο τα προκαταρκτικά (ημερομηνία, κατεύθυνση, εξεταζόμενο μάθημα). **Να μην αντιγράψετε** τα θέματα στο τετράδιο.
2. Να γράψετε το ονοματεπώνυμό σας στο πάνω μέρος των φωτοαντιγράφων, αμέσως μόλις σας παραδοθούν. **Καμιά άλλη σημείωση δεν επιτρέπεται να γράψετε.** Κατά την αποχώρησή σας να παραδώσετε μαζί με το τετράδιο και τα φωτοαντίγραφα.
3. Να απαντήσετε **στο τετράδιό σας σε όλα** τα θέματα.
4. Να γράψετε τις απαντήσεις σας μόνο με μπλε ή μόνο με μαύρο στυλό.
5. Κάθε απάντηση επιστημονικά τεκμηριωμένη είναι αποδεκτή.
6. Διάρκεια εξέτασης: τρεις (3) ώρες μετά τη διανομή των φωτοαντιγράφων.
7. Χρόνος δυνατής αποχώρησης: μετά τη 10.00΄ πρωινή.

ΚΑΛΗ ΕΠΙΤΥΧΙΑ

ΤΕΛΟΣ ΜΗΝΥΜΑΤΟΣ