

**ΑΠΟΛΥΤΗΡΙΕΣ ΕΞΕΤΑΣΕΙΣ Γ' ΤΑΞΗΣ
ΗΜΕΡΗΣΙΟΥ ΕΝΙΑΙΟΥ ΛΥΚΕΙΟΥ
ΠΕΜΠΤΗ 2 ΙΟΥΝΙΟΥ 2005
ΕΞΕΤΑΖΟΜΕΝΟ ΜΑΘΗΜΑ: ΦΥΣΙΚΗ ΓΕΝΙΚΗΣ ΠΑΙΔΕΙΑΣ
ΣΥΝΟΛΟ ΣΕΛΙΔΩΝ: ΕΠΤΑ (7)**

ΘΕΜΑ 1^ο

Στις ερωτήσεις 1-4 να γράψετε στο τετράδιό σας τον αριθμό της ερώτησης και δίπλα το γράμμα, που αντιστοιχεί στη σωστή απάντηση.

1. Το έτος 2005 ορίστηκε ως έτος Φυσικής και ιδιαίτερα ως έτος Einstein (Αϊνστάιν). Το 1905 ο Einstein χρησιμοποιώντας τη σωματιδιακή φύση του φωτός ερμήνευσε το φωτοηλεκτρικό φαινόμενο. Σήμερα πιστεύουμε ότι το φως συμπεριφέρεται:
 - α. ως κύμα.
 - β. ως σωματίδιο.
 - γ. ως κύμα και ως σωματίδιο.
 - δ. ως επιταχυνόμενη μάζα.

Μονάδες 5

2. Η σταθερά διάσπασης λ :
 - α. είναι μεγάλη για ραδιενεργούς πυρήνες που διασπώνται γρήγορα.
 - β. εξαρτάται από τον αρχικό αριθμό των πυρήνων.
 - γ. είναι ίδια για όλους τους ραδιενεργούς πυρήνες.
 - δ. μεταβάλλεται με το χρόνο.

Μονάδες 5

3. Όταν οι ακτίνες X προσπίπτουν σε μια μεταλλική πλάκα, η απορρόφηση που υφίστανται:
 - α. αυξάνεται, όταν μειώνεται το μήκος κύματός τους.

- β. είναι ανεξάρτητη από το πάχος της πλάκας.
- γ. αυξάνεται, όταν μειώνεται ο ατομικός αριθμός των ατόμων του υλικού του μετάλλου της πλάκας.
- δ. αυξάνεται, όταν μειώνεται η συχνότητα της ακτινοβολίας.

Μονάδες 5

4. Το ηλεκτρόνιο που εκπέμπεται από τον πυρήνα κατά τη ραδιενεργό διάσπαση β^- :
- α. προϋπήρχε στον πυρήνα και έλκοντας τα πρωτόνια του συνέβαλε στη σταθερότητα του πυρήνα.
 - β. δεν υπήρχε στον πυρήνα, αλλά η εκπομπή του οφείλεται στη διάσπαση ενός νετρονίου του πυρήνα.
 - γ. συνοδεύεται από την εκπομπή αντινετρίνου ($\bar{\nu}_e$), για να διατηρηθεί το φορτίο στην πυρηνική αντίδραση.
 - δ. προκαλεί μείωση του αριθμού των πρωτονίων στο θυγατρικό πυρήνα κατά 1.

Μονάδες 5

Στην παρακάτω ερώτηση 5 να γράψετε στο τετράδιό σας το γράμμα κάθε πρότασης και δίπλα σε κάθε γράμμα τη λέξη **Σωστό** για τη σωστή πρόταση και τη λέξη **Λάθος** για τη λανθασμένη.


5. α. Το ατομικό πρότυπο του Rutherford (Ράδερχορντ) αδυνατούσε να εξηγήσει τα γραμμικά φάσματα των αερίων.
- β. Το λευκό φως, όταν διαδίδεται στο κενό, εμφανίζει το φαινόμενο του διασκεδασμού.
- γ. Στις αντιδράσεις πυρηνικής σύντηξης η μάζα ηρεμίας του τελικού πυρήνα είναι μικρότερη από το άθροισμα των μαζών των αρχικών πυρήνων.

- δ. Τα φωτόνια γ , όταν αλληλεπιδρούν με την ύλη, είτε χάνουν όλη τους την ενέργεια με μια αλληλεπίδραση κατά την οποία απορροφώνται, είτε περνούν ανεπηρέαστα.
- ε. Στο εσωτερικό του γυάλινου περιβλήματος των λαμπτήρων φθορισμού υπάρχει ποσότητα ατμών ιωδίου, ώστε τα εξαχνούμενα άτομα βολφραμίου να επανατοποθετούνται στο νήμα.

Μονάδες 5

ΘΕΜΑ 2^ο

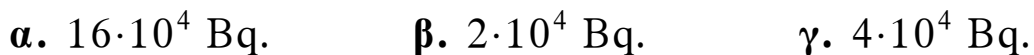
1. Να μεταφέρετε στο τετράδιό σας συμπληρωμένες τις παρακάτω αντιδράσεις:



Μονάδες 4

Για τις παρακάτω ερωτήσεις 2-4 να γράψετε στο τετράδιό σας τον αριθμό της ερώτησης και δίπλα το γράμμα που αντιστοιχεί στη σωστή απάντηση.

2. Αν ένα δείγμα ραδιενεργού υλικού έχει κάποια χρονική στιγμή ενεργότητα $8 \cdot 10^4$ Bq και το ραδιενεργό υλικό έχει χρόνο υποδιπλασιασμού 60 ημέρες, τότε μετά από 120 ημέρες η ενεργότητα του δείγματος θα έχει γίνει:



Μονάδες 2

Να αιτιολογήσετε την απάντησή σας.

Μονάδες 4

3. Στο ατομικό πρότυπο του Bohr (Μπορ) για το άτομο του υδρογόνου, αν v_1 είναι η ταχύτητα του ηλεκτρονίου στην επιτρεπόμενη τροχιά με κβαντικό αριθμό $n = 1$ και v_4

είναι η ταχύτητα του ηλεκτρονίου στην επιτρεπόμενη τροχιά με κβαντικό αριθμό $n = 4$, τότε ισχύει:

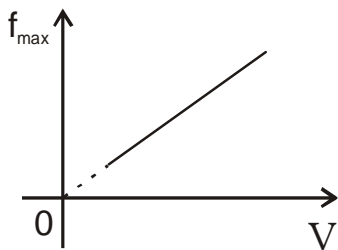
α. $v_4 = 4v_1$. β. $v_4 = \frac{v_1}{16}$. γ. $v_1 = 4v_4$.

Μονάδες 2

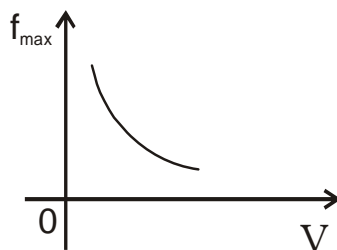
Να αιτιολογήσετε την απάντησή σας.

Μονάδες 6

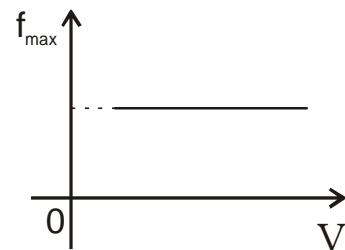
4. Σε συσκευή παραγωγής ακτίνων X μεταξύ καθόδου και ανόδου εφαρμόζουμε τάση V . Υποθέτουμε ότι τα ηλεκτρόνια εξέρχονται από τη θερμαινόμενη κάθοδο με αμελητέα ταχύτητα. Η μέγιστη συχνότητα f_{\max} του συνεχούς φάσματος των ακτίνων X μεταβάλλεται με την τάση V , όπως απεικονίζεται:



(1)



(2)



(3)

- α. στο διάγραμμα 1.
β. στο διάγραμμα 2.
γ. στο διάγραμμα 3.

Μονάδες 2

Να αιτιολογήσετε την απάντησή σας.

Μονάδες 5

ΘΕΜΑ 3°

Δέσμη φωτός, που διαδίδεται στο κενό, αποτελείται από δύο μονοχρωματικές ακτινοβολίες: την ιώδη με μήκος κύματος $\lambda_{\text{οι}} = 400 \text{ nm}$ και την ερυθρά με μήκος κύματος $\lambda_{\text{οε}} = 700 \text{ nm}$.

Η δέσμη φωτός εισέρχεται σε γυαλί. Το γυαλί εμφανίζει για την ιώδη ακτινοβολία δείκτη διάθλασης $n_{\text{ι}}$ και για την ερυθρά ακτινοβολία δείκτη διάθλασης $n_{\text{ε}}$ με λόγο $\frac{n_{\text{ι}}}{n_{\text{ε}}} = \frac{8}{7}$.

Το μήκος κύματος της ιώδους ακτινοβολίας στο γυαλί είναι 200 nm .

α. Να υπολογιστεί ο δείκτης διάθλασης του γυαλιού για την ιώδη ακτινοβολία.

Μονάδες 6

β. Να δειχθεί ότι το μήκος κύματος της ερυθράς ακτινοβολίας στο γυαλί είναι ίσο με το μήκος κύματος της ιώδους ακτινοβολίας στο κενό.

Μονάδες 8

γ. Παρατηρείται αλλαγή του χρώματος της ερυθράς ακτινοβολίας κατά τη διάδοσή της μέσα στο γυαλί; Να αιτιολογήσετε την απάντησή σας.

Μονάδες 3

δ. Έστω $N_{\text{ι}}$ και $N_{\text{ε}}$ οι αριθμοί των φωτονίων της ιώδους και της ερυθράς ακτινοβολίας αντίστοιχα, που προσπίπτουν στο γυαλί στη μονάδα του χρόνου. Να βρεθεί ο λόγος $\frac{N_{\text{ι}}}{N_{\text{ε}}}$, ώστε ο ρυθμός με τον οποίο

προσπίπτει η ενέργεια της ιώδους ακτινοβολίας στο γυαλί να είναι ίσος με το ρυθμό, με τον οποίο προσπίπτει η ενέργεια της ερυθράς ακτινοβολίας στο γυαλί.

Μονάδες 8

ΘΕΜΑ 4^ο

1000 άτομα υδρογόνου βρίσκονται όλα στην ίδια διεγερμένη ενεργειακή στάθμη. Για να απομακρυνθεί το ηλεκτρόνιο του κάθε διεγερμένου ατόμου σε περιοχή εκτός του ηλεκτρικού πεδίου του πυρήνα, η ελάχιστη ενέργεια που απαιτείται είναι 1,51 eV.

α. Να βρεθεί ο κβαντικός αριθμός n της διεγερμένης κατάστασης στην οποία βρίσκονται τα άτομα του υδρογόνου.

Μονάδες 6

β. Να σχεδιάσετε στο διάγραμμα ενεργειακών σταθμών όλες τις δυνατές αποδιεγέρσεις από τη διεγερμένη κατάσταση.

Μονάδες 4

γ. Από πόσες γραμμές θα αποτελείται το φάσμα εκπομπής που λαμβάνεται κατά την αποδιέγερση των 1000 ατόμων υδρογόνου;

Μονάδες 3

δ. Κατά την πλήρη αποδιέγερση και των 1000 ατόμων υδρογόνου εκπέμπονται συνολικά 1250 φωτόνια.

Με κριτήριο την ενέργεια των εκπεμπομένων φωτονίων τα κατατάσσουμε σε κατηγορίες. Πόσα φωτόνια αντιστοιχούν σε κάθε κατηγορία;

Μονάδες 8

ε. Πόση είναι η συνολική ενέργεια των εκπεμπομένων φωτονίων;

Μονάδες 4

Δίνεται η ενέργεια του ατόμου του υδρογόνου στη θεμελιώδη κατάσταση $E_1 = - 13,6$ eV.

ΟΔΗΓΙΕΣ (για τους εξεταζομένους)

1. Στο τετράδιο να γράψετε μόνο τα προκαταρκτικά (ημερομηνία, εξεταζόμενο μάθημα). **Να μην αντιγράψετε** τα θέματα στο τετράδιο. Τα σχήματα που θα χρησιμοποιήσετε στο τετράδιο μπορείτε να τα σχεδιάσετε και με μολύβι.
2. Να γράψετε το ονοματεπώνυμό σας στο πάνω μέρος των φωτοαντιγράφων, αμέσως μόλις σας παραδοθούν. **Καμιά άλλη σημείωση δεν επιτρέπεται να γράψετε.** Κατά την αποχώρησή σας να παραδώσετε μαζί με το τετράδιο και τα φωτοαντίγραφα, τα οποία και θα καταστραφούν μετά το πέρας της εξέτασης.
3. Να απαντήσετε **στο τετράδιό σας σε όλα** τα θέματα.
4. Κάθε λύση επιστημονικά τεκμηριωμένη είναι αποδεκτή.
5. Διάρκεια εξέτασης: τρεις (3) ώρες μετά τη διανομή των φωτοαντιγράφων.
6. Χρόνος δυνατής αποχώρησης: μετά τη **10:30'** πρωινή.

ΚΑΛΗ ΕΠΙΤΥΧΙΑ

ΤΕΛΟΣ ΜΗΝΥΜΑΤΟΣ